

## FIȘĂ DE CONCURS

Concursul Școlar Național de Competență și Performanță COMPER

- clasa pregătitoare -

COMPER-MATEMATICĂ, ETAPA a II-a 2016-2017

- ① *Toate subiectele sunt obligatorii.*  
 ② *Timpul efectiv de lucru este de 50 de minute.*  
 ③ *Cerințele vor fi citite de învățător.*




PUNCTAJ:

PREMIU:

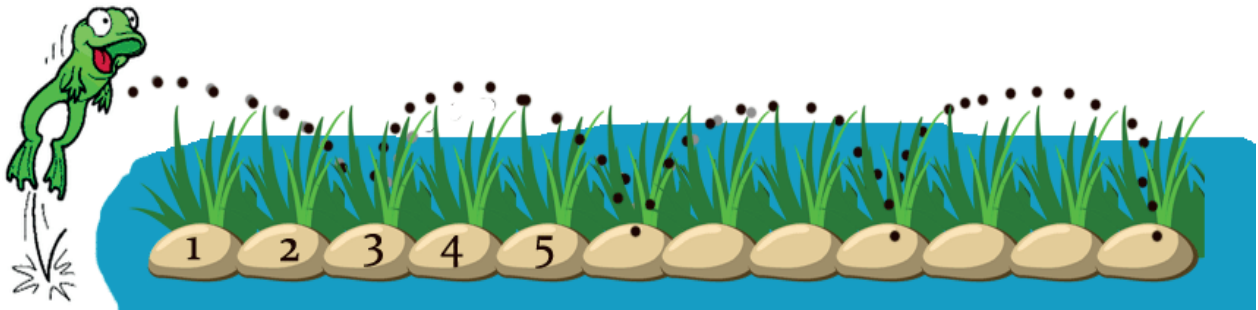
NUME ELEV: .....

MENTOR/ȘCOALĂ : .....

- 1 Încercuiește buburuza care are cele mai multe buline:



- 2 Broscuța sare din 3 în 3 pietre. Numerotează toate pietrele și află pe ce piatră se va opri.





A 10

B 11

C 12

D 9

- 3 Adaugă petale florilor, astfel încât fiecare floare să aibă câte 9 petale. Încercuiește apoi floarea căreia i-ai adăugat cele mai puține petale.



4 De ziua bunicii, Ioana culege lalelele din grădină:




Completează propoziția: **IOANA A CULES**  **LALELE.**

Ai completat cu:

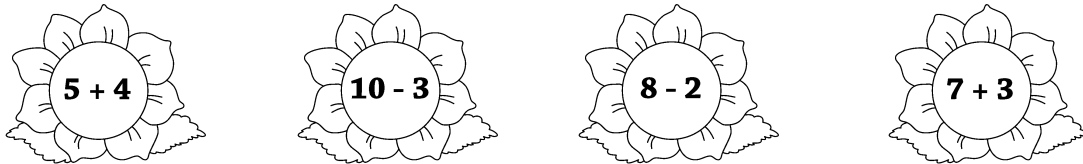
- A** 15                      **B** 12                      **C** 10                      **D** 9

5 Două rațe și Grivei  
 Stau în ograda lui Matei.  
 Spune repede, de vrei,  
 Câte picioare au în total cele 3?



- A** 7                      **B** 8                      **C** 9                      **D** 5

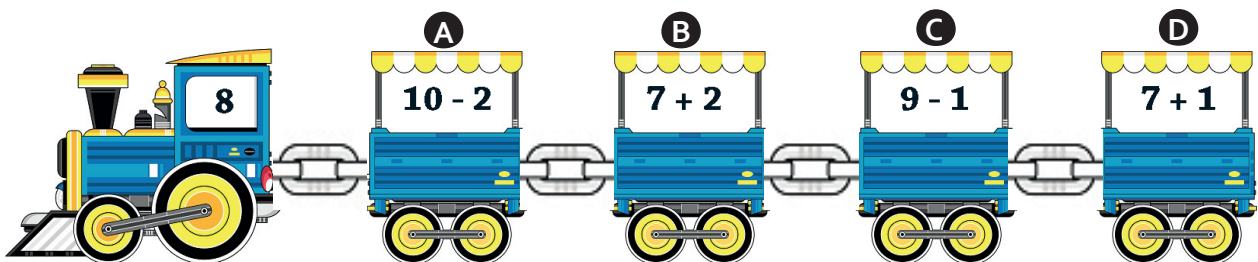
6 Unește albinuțele cu florile corespunzătoare:



Albinuța care lipsește este:

- A** **B** **C** **D**

7 Rezultatul operației de pe un singur vagon nu corespunde cu numărul locomotivei.  
 Care este vagonul?



8




Ordinea crescătoare a numerelor de pe baloane este:

- A 1, 2, 7, 5, 10, 12, 18, 20      B 1, 2, 5, 7, 10, 12, 20, 18  
 C 1, 2, 5, 7, 10, 12, 18, 20      D 1, 2, 5, 7, 18, 10, 12, 20

- 9 Vanessa a desenat: 3 lalele mov, 2 lalele galbene și 4 lalele roșii.  
Completează:

VANESSA A DESENAT ÎN TOTAL  LALELE.



Operația corespunzătoare problemei este:

- A  $3 - 2 + 4$       B  $3 + 2 + 4$   
 C  $3 + 2 - 4$       D  $4 - 3 + 2$